


## Pracovní list 3. ročník TVP - procvičování květnové

1. Vysvětli co znamenají tyto hudební pojmy a kde je najdeme ve skladbě.

AKCENT:

PŘEDTAKTÍ:

2. Zapiš intervaly do notové osnovy.



č.8      v.3      v.6      č.4      v.7      č.5      v.2

3. Zapiš do notové osnovy tónický kvintakord (T5) těchto stupnic:

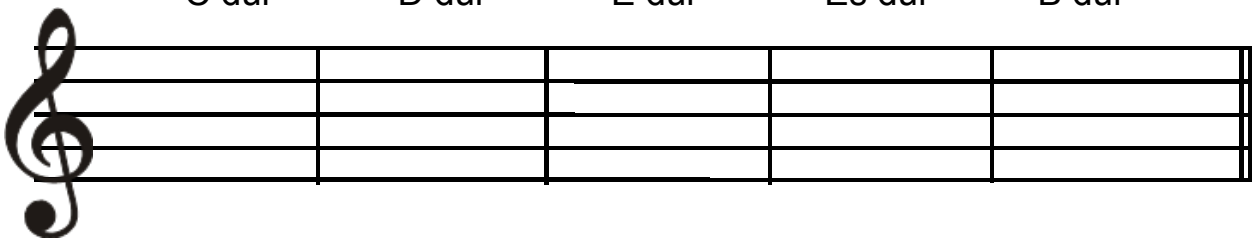
C dur

D dur

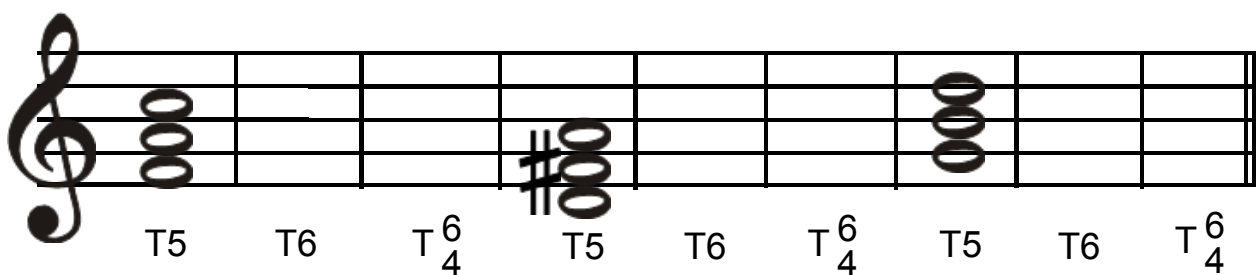
E dur

Es dur

B dur

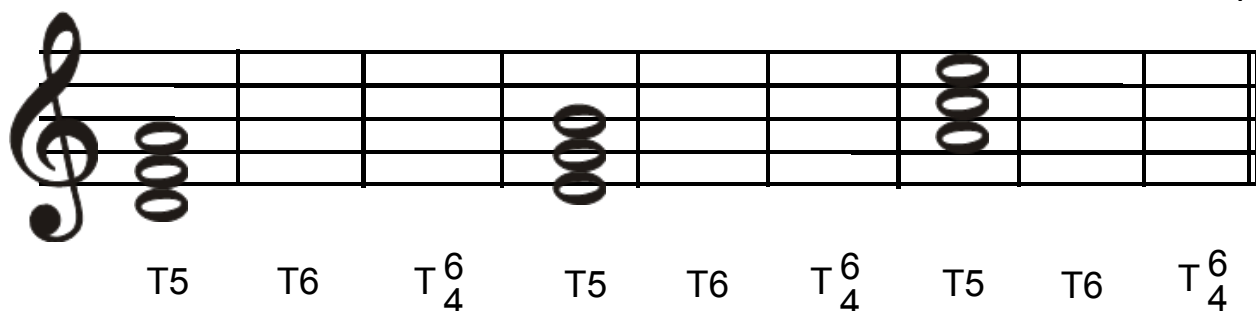


4. Zapiš do notové osnovy obraty durových tonických kvintakordů (T6, T $\frac{6}{4}$ ).



T5      T6      T $\frac{6}{4}$       T5      T6      T $\frac{6}{4}$       T5      T6      T $\frac{6}{4}$

5. Zapiš do notové osnovy obraty mollových tonických kvintakordů (T6, T $\frac{6}{4}$ ).



T5      T6      T $\frac{6}{4}$       T5      T6      T $\frac{6}{4}$       T5      T6      T $\frac{6}{4}$